
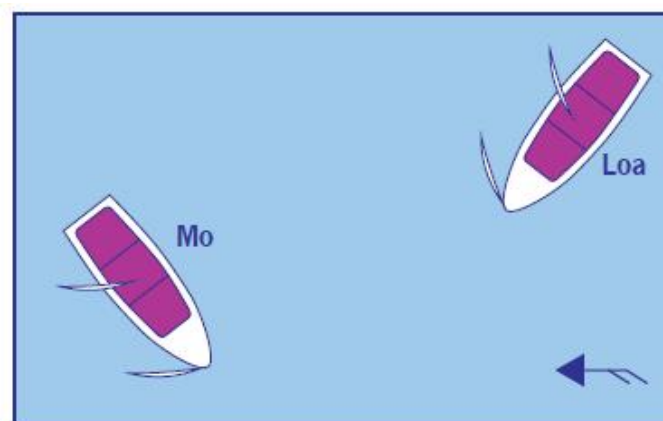
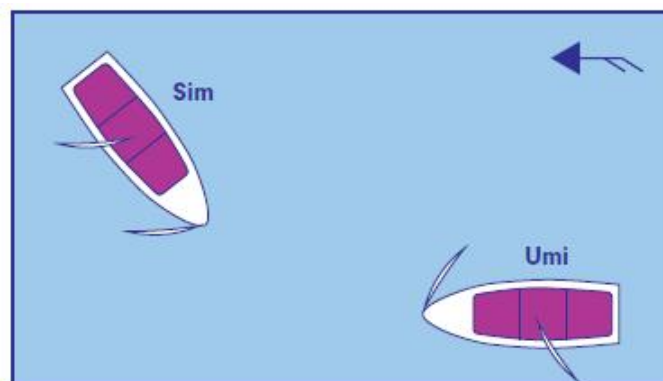
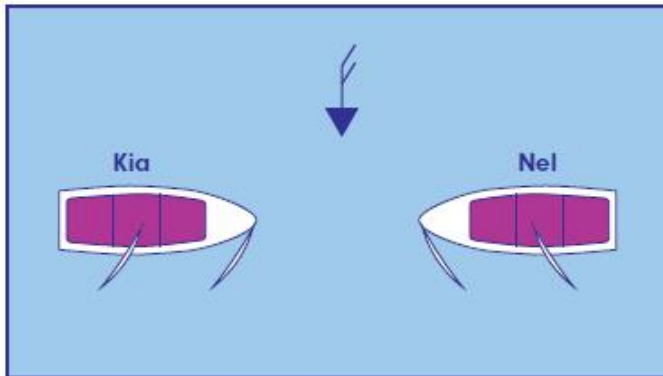


Vaarbewijs 1

Let op:

Vanaf **1 oktober 2024** worden er nieuwe afbeeldingen (3D) door CBR gefaseerd in het theorie examen KVB 1 gebruikt. CBR begint met 1 à 2 nieuwe afbeeldingen per examen (CBR heeft auteursrecht op de afbeeldingen). CBR gaat monitoren wat het effect is op de vraag. De bootnamen X, Y,Z worden aangepast naar scheepsnamen.

Maak hieronder alvast kennis met onze nieuwe VBO afbeeldingen, les 4.1.1 op bladzijde 129.



Z.O.Z.

ERRATUM CURSUSBOEK Vaarbewijs 16^e druk

VAARBEWIJS 1, Bladzijde 40

Hoogteschaal, het plaatje klopt niet. Dit is het juiste plaatje:



Bladzijde 82

Kenteken

Aanduiding van onderstaand blauw bord betekent dat waterskiën in dat gebied (tussen de gele tonnen en/of gele tonnen en wal) is toegestaan.



Bladzijde 149

Vraag 21: Wat bepaalt het BPR ten aanzien van de marifoon. Valt onder lesstof 4.4.2 Bijzondere Bepalingen.

ANTWOORDEN:

Bladzijde 283 2.3.1 Antwoord 14 A moet **C** zijn.

VAARBEWIJS 2, Bladzijde 188

Rechterkolom, berekening positie. Vuurtoren van Marken geen 153° maar 154°.

Bladzijde 238, Les 7.3.2 vraag 6

Het teken bij gem. LW moet een – zijn.

datum	gem. HW		gem. LW	
	tijd MET	NAP +cm	tijd MET	NAP ●cm
10 za.	01:43 13:54	160 160	07:32 19:47	144 152

Laagwater bevindt zich namelijk altijd onder NAP en hoogwater erboven. Vandaar dat NAP ook wel ‘de middenstand’ wordt genoemd. NAP zit tussen hoog-en laagwater in.

Bladzijde 251

Vraag 10. Het plaatje staat er niet bij. Hierbij het plaatje:

